



Schwingung eines Fadenpendels

$$F_R = G \cdot \sin \phi$$

$$F_R = G \cdot \sin \frac{b}{l}$$

⇒ nicht linear

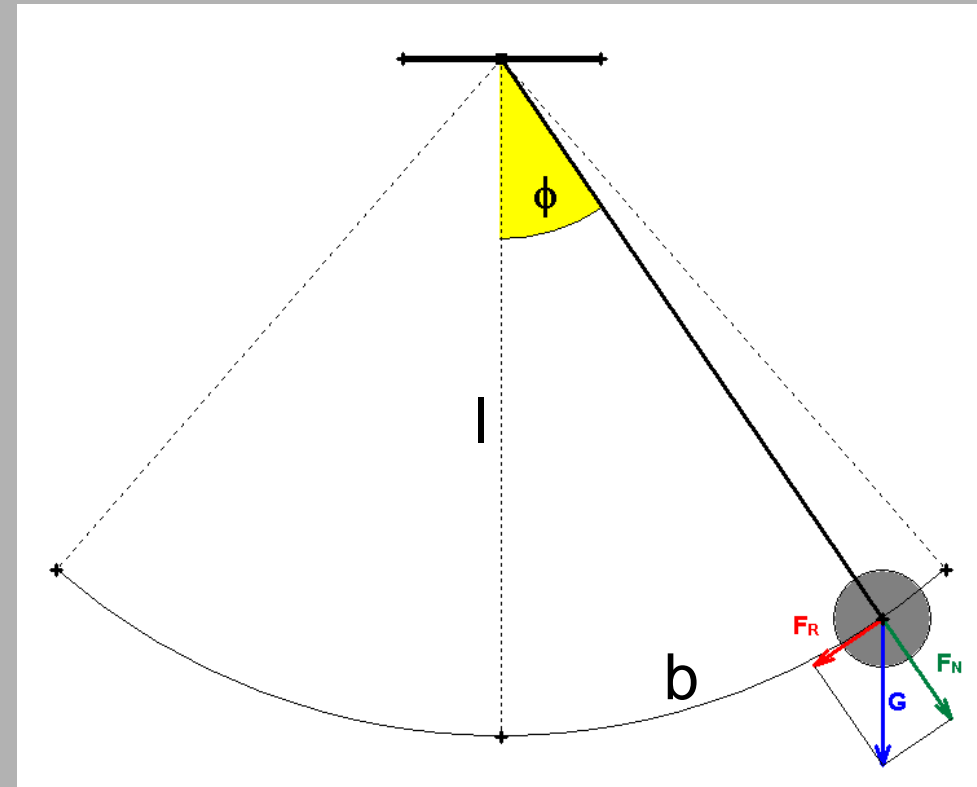
Für $x \ll 1$ gilt

$$\sin x \approx x$$

Bogenmaß!!

$$F_R = -G \cdot \frac{b}{l} = -\frac{G}{l} \cdot b$$

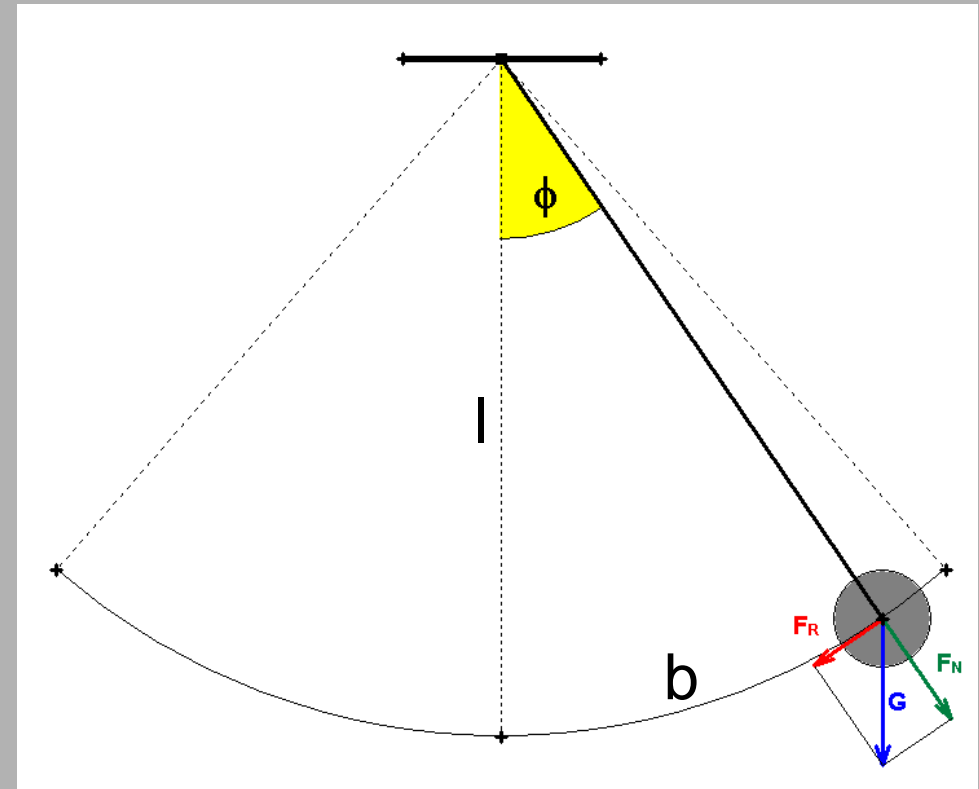
$$\Rightarrow \omega = \sqrt{\frac{D}{m}} = \sqrt{\frac{m \cdot g}{l \cdot m}} = \sqrt{\frac{g}{l}}$$





Schwingung eines Fadenpendels

$$\omega = \sqrt{\frac{g}{l}}$$



Für ein Fadenpendel ohne Reibung ist bei
kleiner Auslenkung :

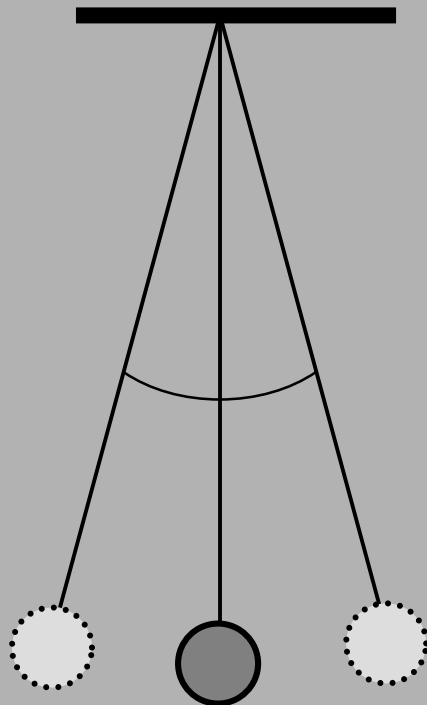
$$\Rightarrow T = \frac{2\pi}{\omega} = 2\pi \sqrt{\frac{l}{g}}$$



Schwingung eines Fadenpendels

Für ein Fadenpendel ohne Reibung ist bei

kleiner Auslenkung : $T = \frac{2\pi}{\omega} = 2\pi \sqrt{\frac{l}{g}}$



$$l = 1,5\text{m}$$

$$T = 2\pi \sqrt{\frac{l}{g}} = 2\pi \sqrt{\frac{1,5}{9,81}}\text{s} \approx 2,46\text{s}$$




Schwingung einer Flüssigkeitssäule im U-Rohr

In einem U-Rohr mit konstantem Querschnitt A befindet sich eine Flüssigkeitssäule der Gesamtlänge l . Wenn man kurz in ein Rohrende bläst, so beginnt sie zu schwingen.

Die Rückstellkraft F_R ist gleich der Gewichtskraft, die die Säule mit der Höhe $h = 2 \cdot \Delta y$ auf die gesamte Flüssigkeitssäule mit der Länge l ausübt:

$$\begin{aligned}
 F_R &= -m \cdot g = -\rho \cdot (A \cdot 2\Delta y) \cdot g \\
 &= -(\rho \cdot A \cdot g) \cdot 2\Delta y = -D \cdot s
 \end{aligned}$$





Schwingung einer Flüssigkeitssäule im U-Rohr

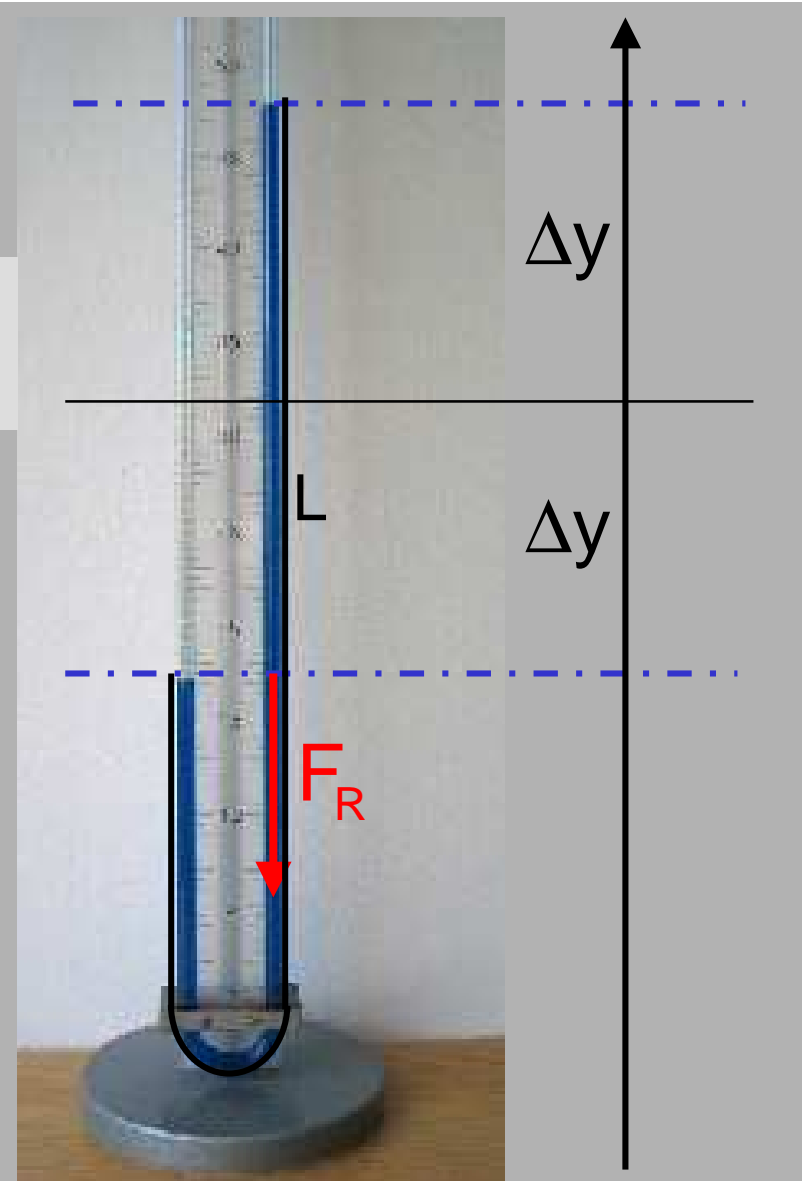
$$\begin{aligned}
 F_R &= -m \cdot g = -\rho \cdot (A \cdot 2\Delta y) \cdot g \\
 &= -(2 \cdot A \cdot \rho \cdot g) \cdot \Delta y = -D \cdot s
 \end{aligned}$$

Die Schwingung ist harmonisch mit

$$D = 2 \cdot A \cdot \rho \cdot g$$

$$\omega^2 = \frac{D}{m} = \frac{2A \frac{m}{V} g}{m} = 2 \frac{g}{L}$$

$$T = \frac{2\pi}{\omega} = \frac{2\pi}{\sqrt{\frac{2g}{L}}} = 2\pi \sqrt{\frac{2L}{g}}$$





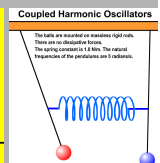
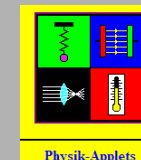
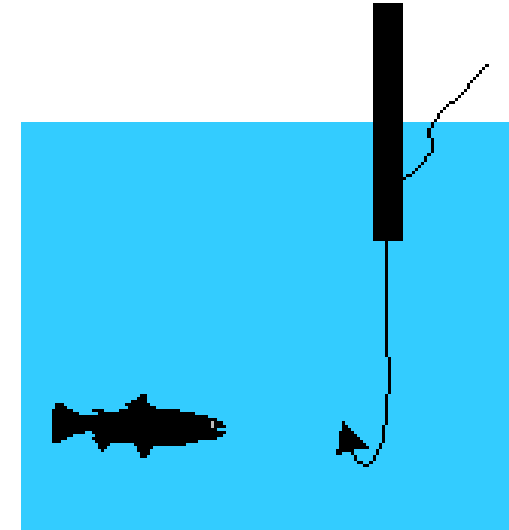
Aufgabe: Schwimmer an der Angel

Der Schwimmer an einer Angel schwebt im Wasser (Gewichts- und Auftriebskraft heben sich auf).

Die Masse des Schwimmers beträgt $m = 4$ g, seine Querschnittsfläche $A = 0,80$ cm² und seine Länge $l = 10$ cm, von der 5,0 cm eingetaucht sind. Die Dichte von Wasser ist $\rho_w = 1,0 \cdot 10^3$ kg·m⁻³.

Ein Fisch zieht am Schwimmer 3,0 cm senkrecht nach unten und lässt dann aber wieder los.

<http://leifi.physik.uni-muenchen.de>

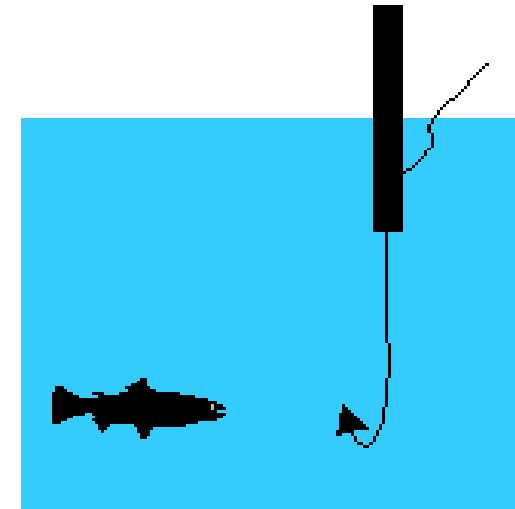




Aufgabe: Schwimmer an der Angel

- Zeige, dass der Schwimmer nach dem Loslassen (bei Vernachlässigung der Reibung) harmonisch schwingt.
- Berechne die Schwingungsdauer T
- Mit welcher Geschwindigkeit bewegt sich der Schwimmer durch die Gleichgewichtslage?
- Ändert sich die Schwingungsdauer, wenn
- der Schwimmer nur 1,0 cm nach unten gezogen wird? Begründung!

<http://leifi.physik.uni-muenchen.de>



→ Nach dem Archimedischen Prinzip gilt: $F = - m_w \cdot g$; $F = - A \cdot s \cdot \rho_w \cdot g$;

→ $F \sim s$ d.h. es liegt ein lineares Kraftgesetz mit der Richtgröße $D = A \cdot \rho_w \cdot g$ vor

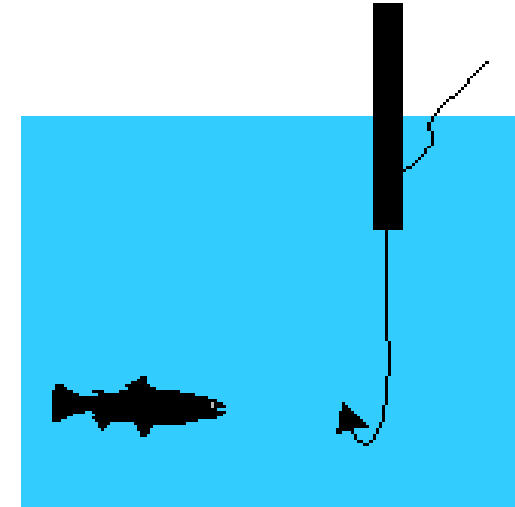
→ harmonische Schwingung



Aufgabe: Schwimmer an der Angel

$$D = A \cdot \rho_w \cdot g$$

<http://leifi.physik.uni-muenchen.de>



$$T = 2 \cdot \pi \cdot \sqrt{\frac{m}{D}} \Rightarrow T = 2 \cdot \pi \cdot \sqrt{\frac{m}{A \cdot \rho_w \cdot g}}$$

$$T = 2 \cdot \pi \cdot \sqrt{\frac{0,004}{0,80 \cdot 10^{-4} \cdot 1,0 \cdot 10^3 \cdot 9,81}} \sqrt{\frac{\text{kg}}{\text{m}^2 \cdot \frac{\text{kg}}{\text{m}^3} \cdot \frac{\text{m}}{\text{s}^2}}} = 0,45 \text{ s}$$

$$y(t) = -A \cdot \cos(\omega t) = -0,03 \cdot \cos\left(\frac{2\pi}{0,45} \cdot t\right)$$

$$v(t) = \dot{y}(t) = A \cdot \omega \cdot \cos(\omega t) = -0,03 \cdot \frac{2\pi}{0,45} \cdot \cos\left(\frac{2\pi}{0,45} \cdot t\right)$$

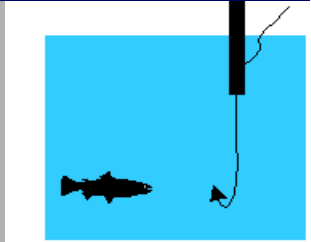
$$v\left(\frac{T}{4}\right) = \dot{y}\left(\frac{T}{4}\right) = A \cdot \omega \cdot \cos\left(\omega \cdot \frac{T}{4}\right) = -0,03 \cdot \frac{2\pi}{0,45} \cdot \cos\left(\frac{2\pi}{0,45} \cdot \frac{0,45}{4}\right)$$



Aufgabe: Schwimmer an der Angel

<http://leifi.physik.uni-muenchen.de>

$$D = A \cdot \rho_w \cdot g$$



$$y(t) = -A \cdot \cos(\omega t) = -0,03 \cdot \cos\left(\frac{2\pi}{0,45} \cdot t\right)$$

$$v(t) = \dot{y}(t) = A \cdot \omega \cdot \cos(\omega t) = -0,03 \cdot \frac{2\pi}{0,45} \cdot \cos\left(\frac{2\pi}{0,45} \cdot t\right)$$

$$v\left(\frac{T}{4}\right) = \dot{y}\left(\frac{T}{4}\right) = A \cdot \omega \cdot \cos\left(\omega \cdot \frac{T}{4}\right) = -0,03 \cdot \frac{2\pi}{0,45} \cdot \cos\left(\frac{2\pi}{0,45} \cdot \frac{0,45}{4}\right)$$

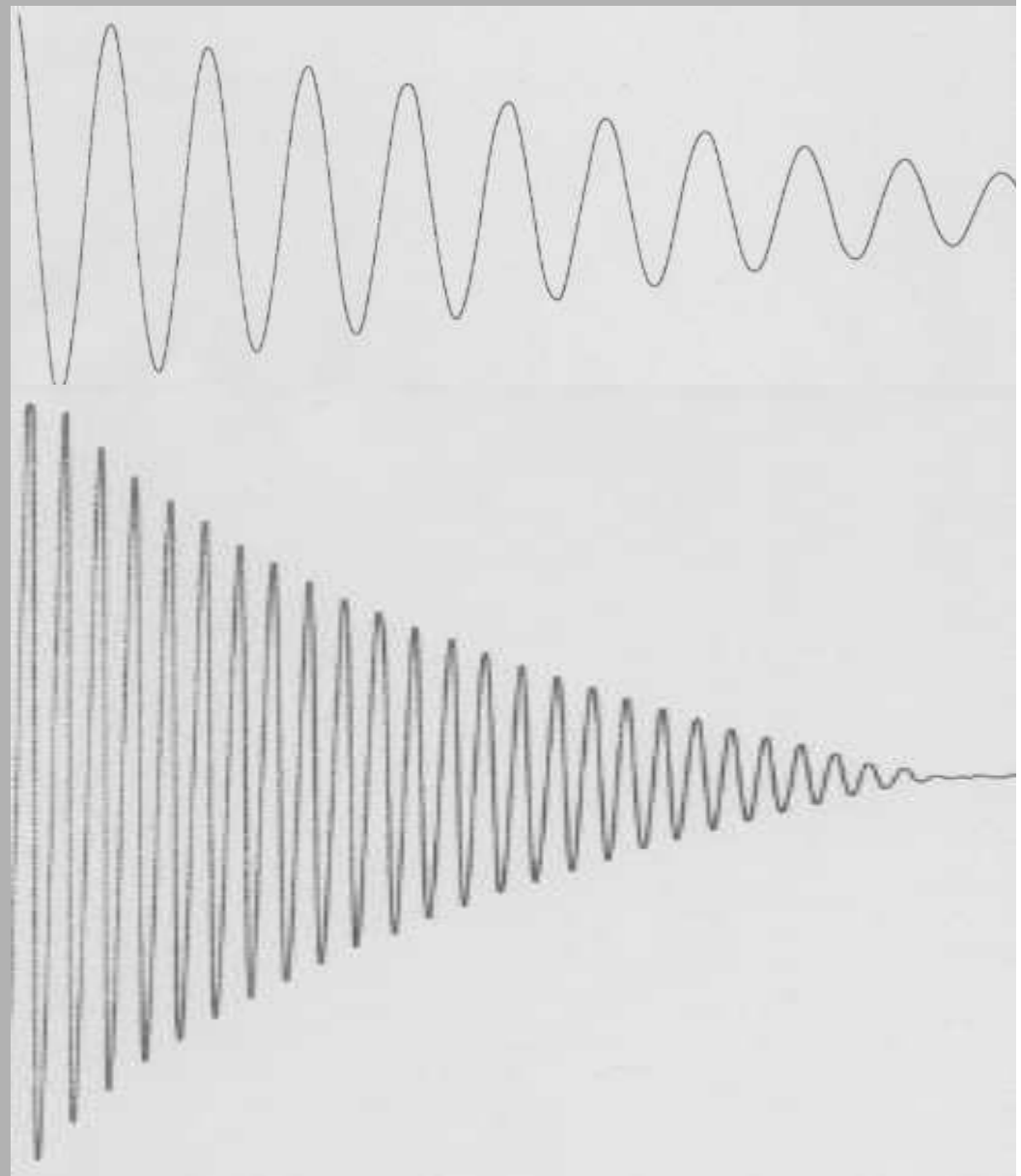
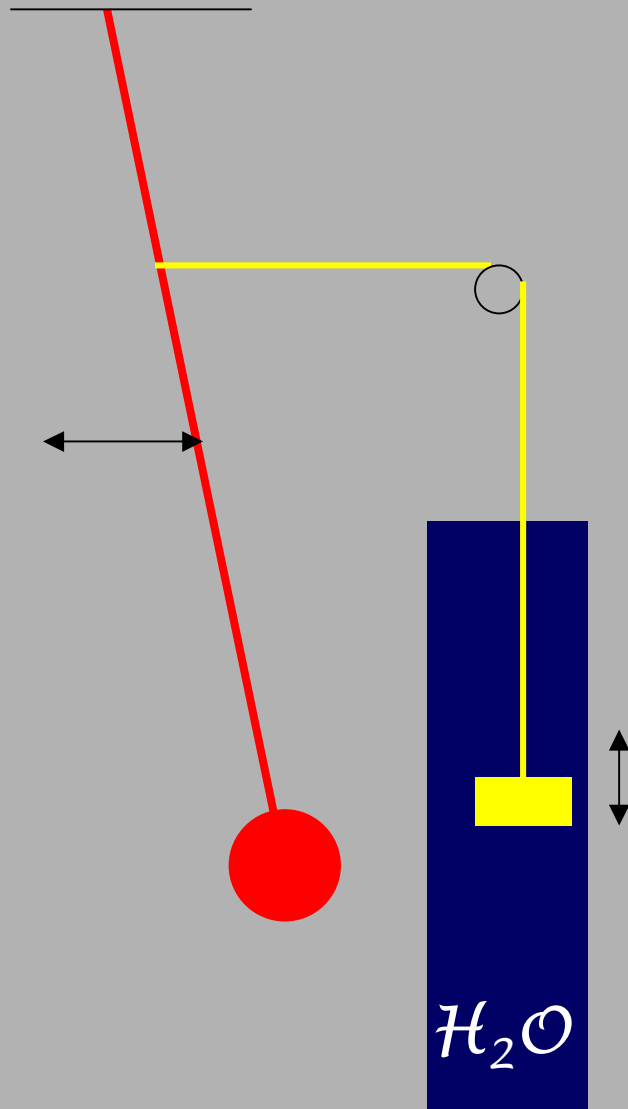
$$v\left(\frac{T}{4}\right) = -0,03 \cdot \frac{2\pi}{0,45} \cdot \cos\left(\frac{\pi}{2}\right)$$

$$= 0,03 \cdot \frac{2\pi}{0,45} (-1) \approx 0,42$$

$$v\left(\frac{T}{4}\right) \approx 0,42 \frac{\text{m}}{\text{s}}$$

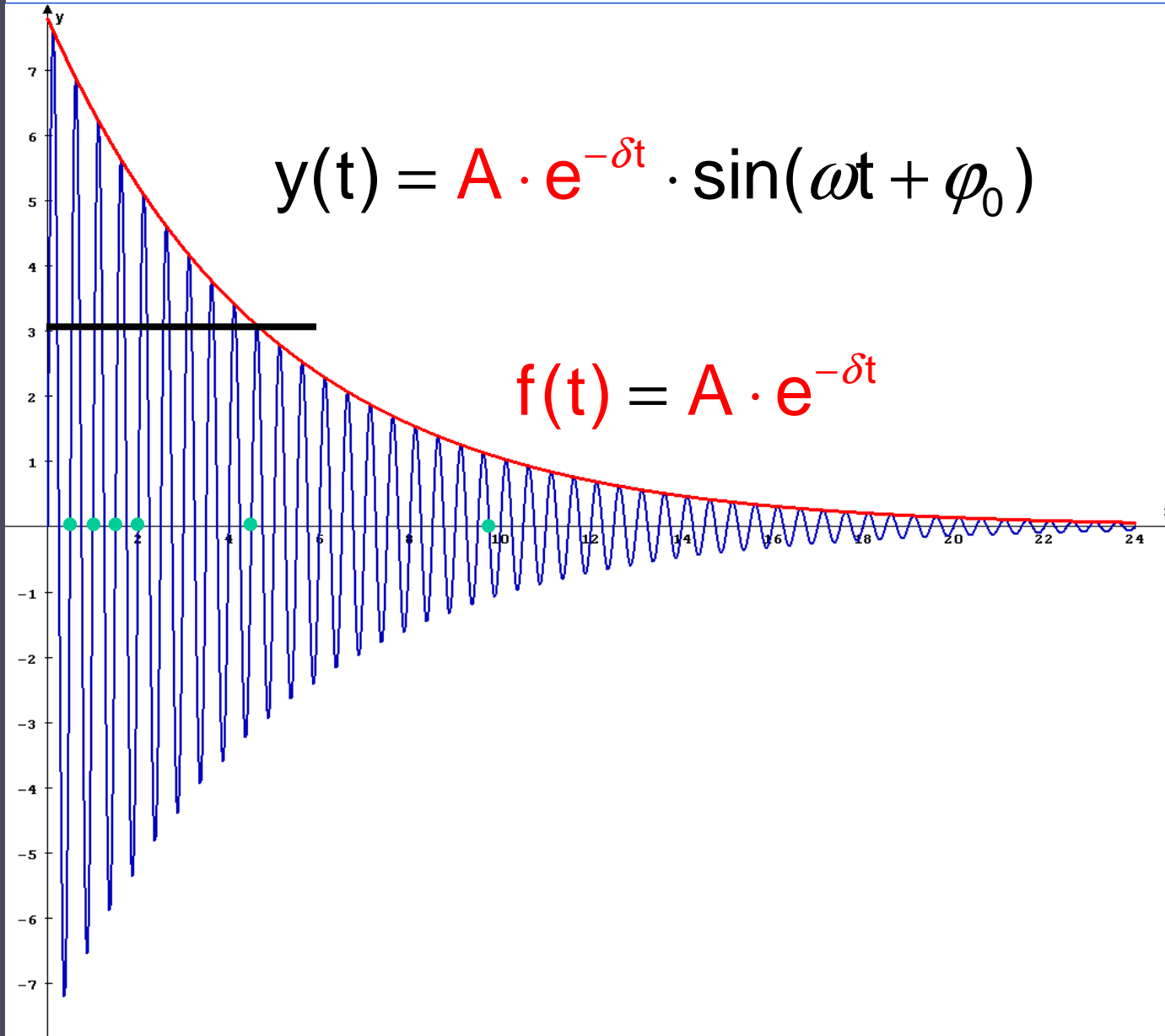


gedämpfte Schwingungen






gedämpfte Schwingungen



$$T=2s$$

$$A=7,8$$

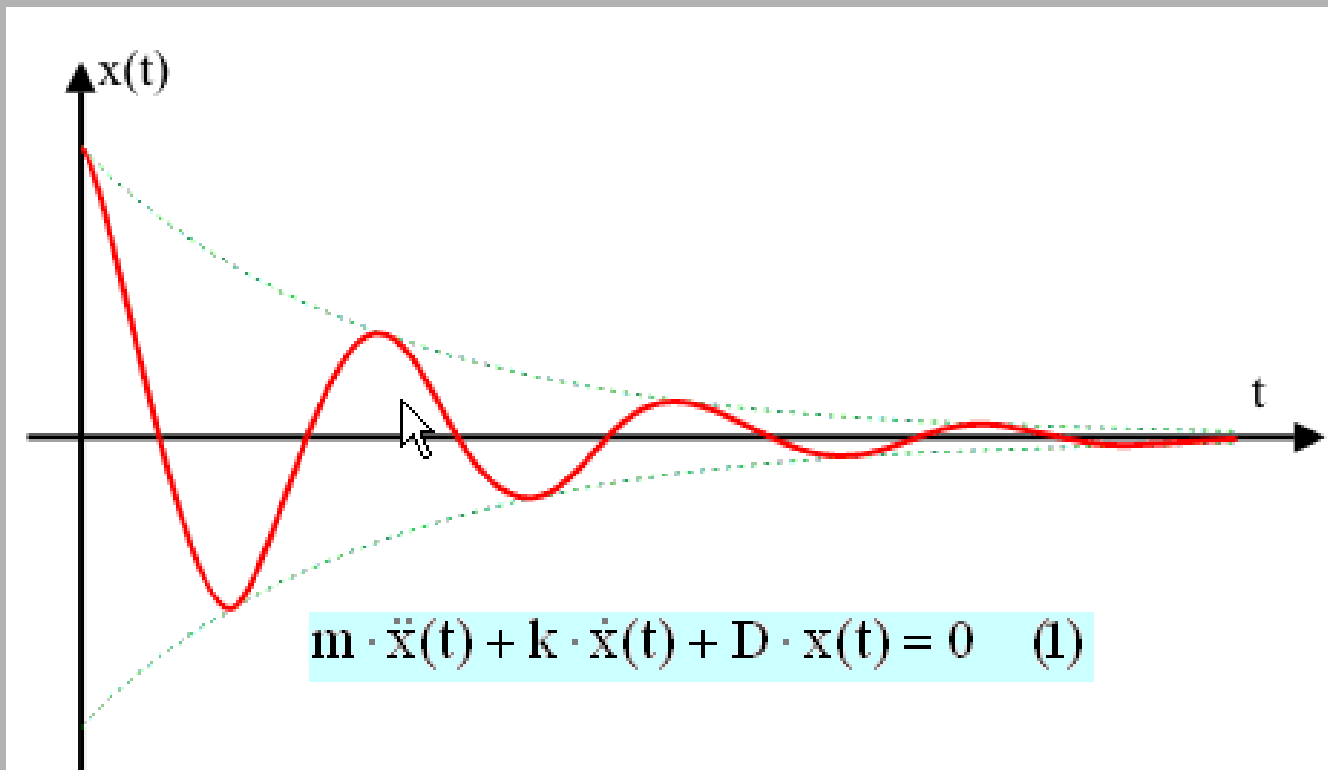




Gedämpfte Schwingungen

Die Reibungskraft ist proportional zur Geschwindigkeit.

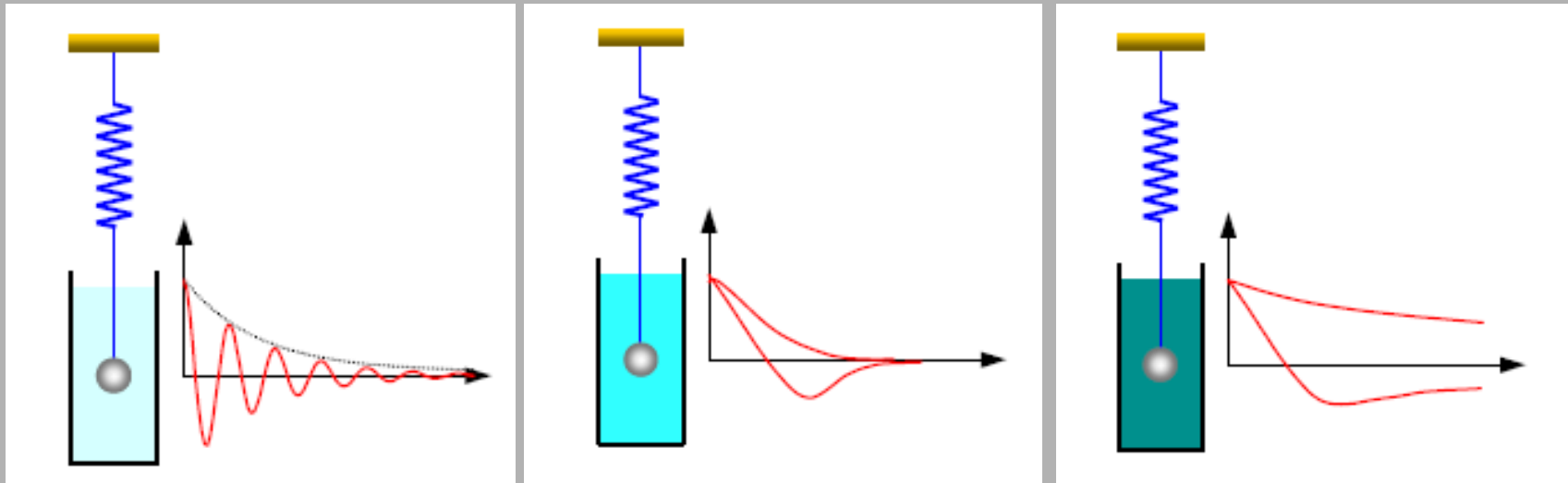
$$m \cdot a(t) = -D \cdot x(t) - k \cdot v(t) \quad \Rightarrow \quad m \cdot a(t) + k \cdot v(t) + D \cdot x(t) = 0$$



$$x(t) = A \cdot e^{-\delta t} \cdot \sin(\omega t + \varphi_0)$$

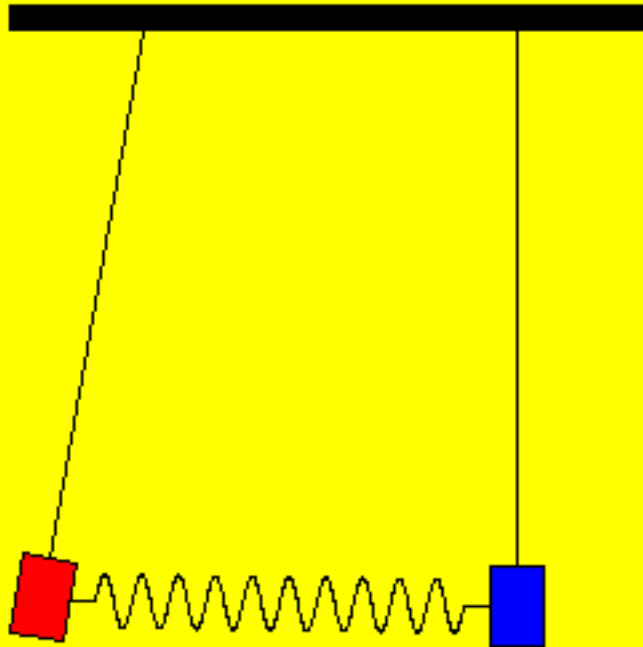


gedämpfte Schwingungen





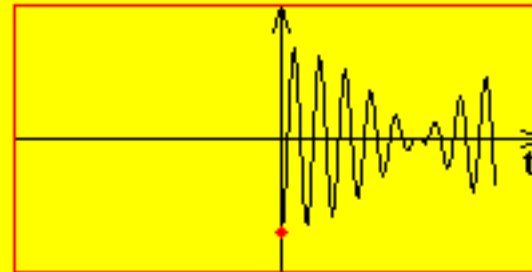
gekoppelte Pendel



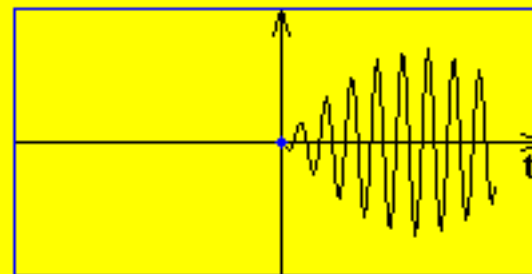
Pendel 1

Pendel 2

Pendel 1



Pendel 2



Reset



Start



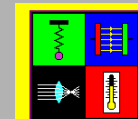
Zeitlupe

Anfangspositionen:

-10,0

0

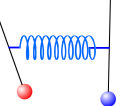
© W. Fendt 1998



Physik-Applets

Coupled Harmonic Oscillators

The balls are mounted on identical light rods.
There are no dissipation or friction.
The spring constant is 8 N/m. The natural
frequencies of the pendulums are 1 rad/s.





Erzwungene Schwingungen

